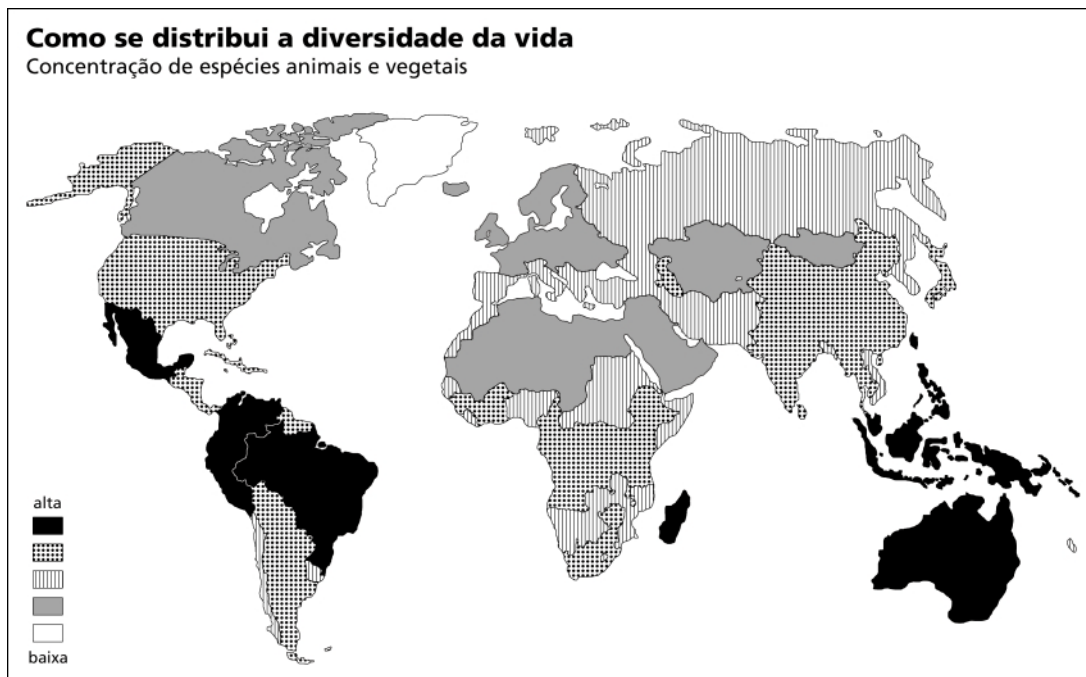


## Questão 01

Analise o mapa abaixo.



(Galileu, agosto de 2002)

Aponte dois fatores naturais responsáveis pela irregular distribuição espacial da biodiversidade no mundo e indique um benefício econômico para os países que possuem grande concentração e variedade de espécies animais e vegetais.

## Questão 02

### PROPOSTA BRASILEIRA É BEM RECEBIDA NA RIO+10

JOHANNESBURGO. A proposta brasileira para o aumento do uso da energia limpa em todo o mundo foi apresentada ontem na Cúpula Mundial sobre Desenvolvimento Sustentável, a Rio+10, e recebida como a única esperança para a aprovação de um acordo sobre clima e energia durante a conferência. (...) a proposta prevê que todos os países se comprometam a ter 10% de sua energia provenientes de fontes renováveis até 2010.

(O Globo, 29/08/2002)

Apesar de bem recebida no início da conferência, a proposta brasileira enfrentou a oposição de alguns países (por exemplo, EUA, Japão e países do Oriente Médio), o que inviabilizou um compromisso mundial, conforme se propunha inicialmente.

Explique a principal vantagem da proposta brasileira para o meio ambiente global. Cite também um motivo que justifique a oposição enfrentada.

### Questão 03

No início da década de 1990, o governo dos Estados Unidos lançou a proposta de criação da Área de Livre Comércio das Américas – ALCA, cuja meta final é a eliminação das barreiras tarifárias à circulação de mercadorias, entre os países membros. Em 2002, o Congresso norte-americano aprovou uma autorização especial que dá maior autonomia ao poder executivo na negociação de acordos comerciais, reforçando a posição da administração Bush para o próximo encontro em 2003, no qual será discutida a criação do bloco regional de comércio.

Apresente uma estratégia adotada pelo Brasil e uma outra pelos Estados Unidos, quanto à negociação para a implantação da ALCA, justificando cada uma delas.

### Questão 04

#### MÚSICA PARA REUNIR INIMIGOS

BERLIM. Há quatro anos, o consagrado maestro e pianista argentino Daniel Barenboim entendeu que poderia unir pacificamente dois lados de um violento conflito, usando sua experiência musical e sua origem judaica. Com o apoio de seu amigo palestino Edward Said, renomado ensaísta e professor da Universidade de Columbia, em Nova York, Barenboim criou o projeto “West Eastern Divan”, orquestra formada majoritariamente por crianças e adolescentes israelenses e palestinos, que se apresenta em vários países durante os verões. Barenboim, que vive na Alemanha, afirma que não quer doutrinar politicamente ninguém e sabe que a iniciativa é tímida diante da complexidade da crise no Oriente Médio. Mas também lembra, otimista: “A música é capaz de reunir inimigos”.

(MAGALHÃES-RUETHER, Graça. *O Globo*, 01/09/2002.)

A iniciativa acima é uma dentre várias que são realizadas com o objetivo de facilitar a construção da paz entre dois povos que têm uma história de conflitos. Contudo, os acontecimentos dos últimos anos parecem deixar pouca margem para uma expectativa de solução pacífica em curto prazo.

A respeito da questão judaico-palestina, indique, do ponto de vista territorial, a causa fundamental do conflito e identifique um problema, de caráter espacial, que dificulte uma solução negociada entre os povos envolvidos.

### Questão 05

ESTRANGEIROS REGISTRADOS NO JAPÃO, 1990 a 1996 (milhares e percentual de variação)			
Ano	Total	Coréia do Sul	Brasil
1990	1075	688	56
1995	1362	666	176
1996	1415	657	202
% de variação de 1990-1996	31,6	-4,5	260,7

Fonte: Ministério da Justiça do Japão, Estatísticas de Residentes Estrangeiros.

(In: SASSEN, Saskia. *The Global City*. Princeton: Princeton University Press, 2001.)

Observando a tabela, apresente dois argumentos socioeconômicos capazes de justificar a diferente evolução da migração de sul-coreanos e brasileiros para o Japão, no período de 1990 a 1996.


## Questão 06

Pode ser divertido, além de instrutivo, consultar o novo Atlas Nacional do Brasil (...). Comece pelo mapa “Grau de Urbanização”. Verá que a mais gritante mancha de urbanização corresponde ao Pantanal Mato-Grossense, imediatamente seguida pela Campanha Gaúcha. Nem o Estado de São Paulo, ou o do Rio de Janeiro, mostram tão fortes borrões urbanos. Dá para entender? A resposta é afirmativa para quem conhece a absurda concepção adotada pelo Brasil para delimitar seus espaços urbanos e rurais. É obra de um decreto-lei baixado em 1938 pelo Estado Novo.

(VEIGA, José Eli da. *O Estado de São Paulo*, 11/08/2001.)

Apresente o critério adotado pelo Brasil para definir aglomerado urbano. Explique por que a adoção desse critério leva à distorção apontada pelo autor.

## Questão 07



(In: MORANDI, S. *Espaço e técnica*. São Paulo: Copidart, 2001.)

As figuras acima representam dois processos socioespaciais presentes no território brasileiro.

Estabeleça a relação existente entre os dois processos.

## Questão 08

### COMO SUBSTITUIR O PODER PARALELO?

Não vai ser fácil acabar com uma situação que possui raízes históricas profundas e que levou bastante tempo para se consolidar. Mas é urgente começar a tomar medidas que consigam que a cidadania e o estado de direito subam os morros das nossas cidades(...).

Assim, quem sabe um dia, será possível reunificar a cidade partida e acabar com a situação de *apartheid* em que vivemos, onde transpassar a fronteira errada se paga com a vida.

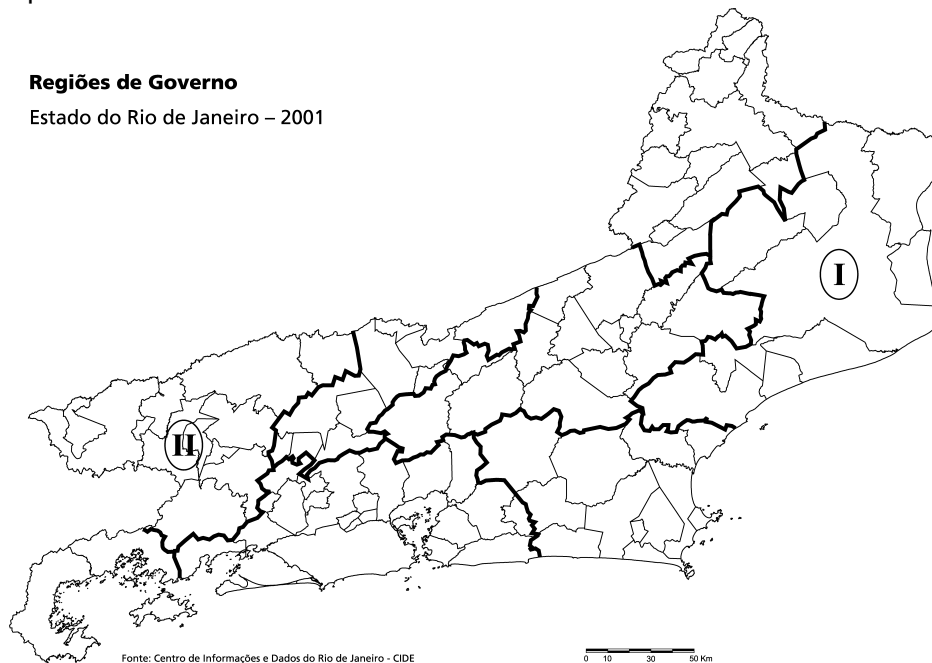
(CANO, Ignácio. *Jornal do Brasil*, 11/06/2002.)

A crescente organização das quadrilhas de traficantes e o alcance espacial de suas atividades vêm configurando, de forma cada vez mais nítida, territórios do crime organizado na região metropolitana do Rio de Janeiro.

Considerando a necessidade de ampliação da cidadania e do estado de direito, explique como o Estado contribuiu para a expansão territorial do crime organizado e aponte uma medida governamental capaz de reverter esse quadro.

## Questão 09

Observe o mapa abaixo.

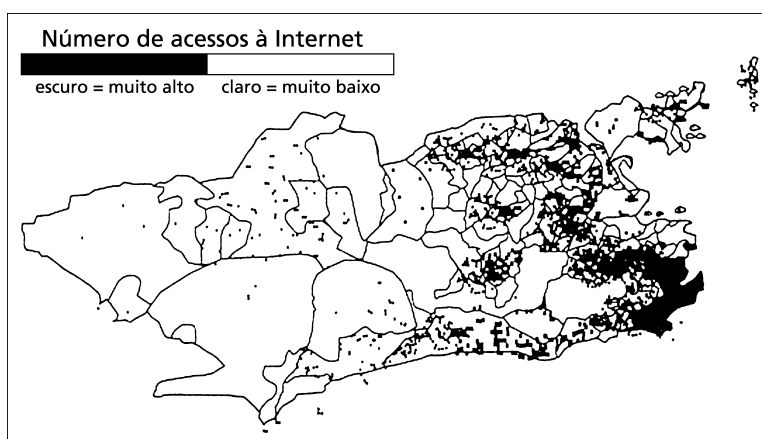


Na última década, o Estado do Rio de Janeiro aumentou sua participação no PIB industrial brasileiro. Porém, há uma considerável heterogeneidade quanto à contribuição das diferentes regiões fluminenses para esse aumento.

Identifique as regiões I e II e caracterize-as quanto ao seu grau de desenvolvimento do setor secundário.

## Questão 10

### MAPA DO APARTHEID DIGITAL CIDADE DO RIO DE JANEIRO POR BAIRROS, 2000



(Valor Econômico, 21/08/2001)

O mapa acima evidencia a desigualdade na distribuição espacial do número de acessos à Internet.

Explique um fator que seja causa dessa distribuição. Em seguida, justifique como esse *apartheid* digital reforça as desigualdades socioeconômicas da metrópole carioca.