

QUESTÃO 01

No mapa abaixo, está representado o Furacão Katrina na área do Golfo do México, no final do mês de agosto de 2005.



(Adaptado de *Geatlas*. São Paulo: Ática, 1991.)

Considerando a dinâmica desse fenômeno na região onde se situa Nova Orleans, indique:

- duas atividades econômicas importantes prejudicadas pela passagem do furacão;
- duas características socioeconômicas que agravaram as conseqüências desse fenômeno.

QUESTÃO 02

REGIÃO	CIDADE	PIB 2004 (milhões de reais)
CENTRO-OESTE	Dourados (MS)	1.175,95
	Rondonópolis (MT)	1.042,13
	Rio Verde (GO)	1.435,27
	Catalão (GO)	1.097,16
	Jataí (GO)	824,15
SUDESTE	São José dos Campos (SP)	13.600,68
	Campinas (SP)	10.820,59
	Campos dos Goytacazes (RJ)	11.086,35
	Macaé (RJ)	9.280,54
	Uberlândia (MG)	6.226,44

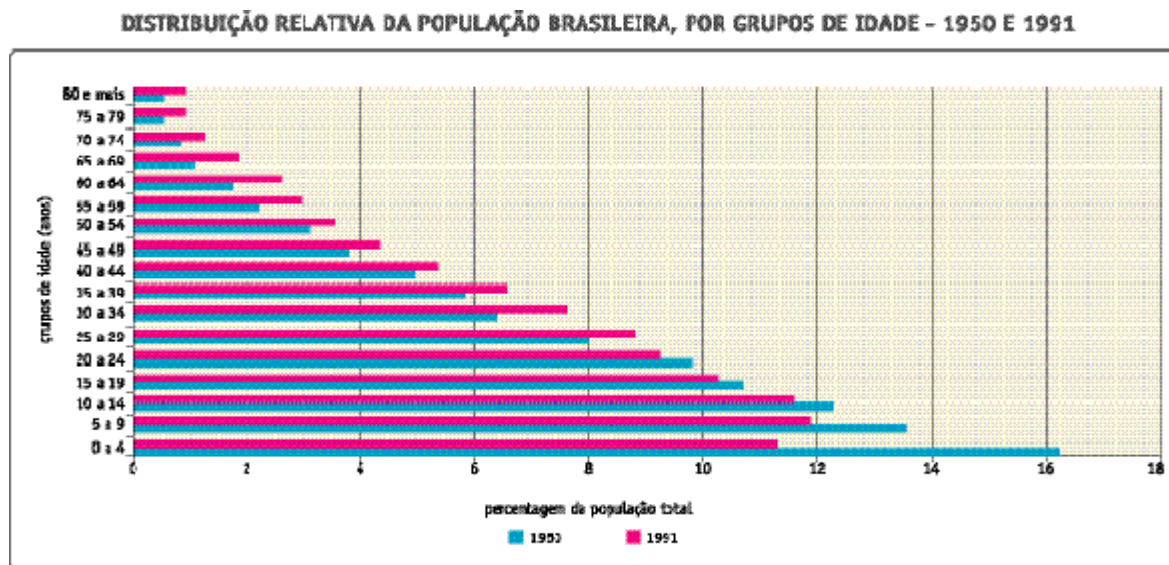
(Adaptado de *O Globo*, 09/05/2005)

A tabela mostra o tamanho da economia de algumas cidades do interior do Brasil que apresentaram expressivo aumento do PIB em 2004.

Indique o setor econômico responsável pelo referido aumento do PIB e o fator que possibilitou a atuação de destaque desse setor:

- para o conjunto das cidades indicadas da Região Centro-Oeste;
- para uma das cidades indicadas da Região Sudeste.

QUESTÃO 05



Fonte: Anuário estatístico do Brasil, 1996. Ano de Janeiro: 118-14, v. 30, 1997.

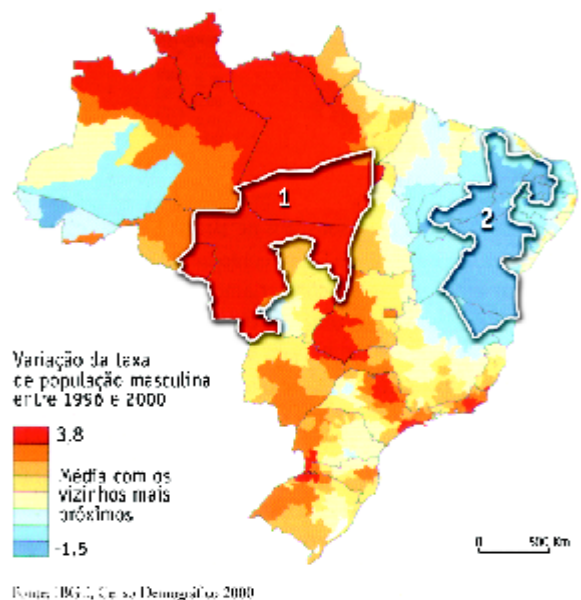
(Estatísticas do século XX: IBGE, 2003, CD-ROM.)

Com base nos dados do gráfico, referentes à estrutura etária da população brasileira em 1950 e em 1991, identifique:

- uma mudança ocorrida entre esses dois anos e sua respectiva causa;
- outra mudança e sua respectiva consequência socioeconômica.

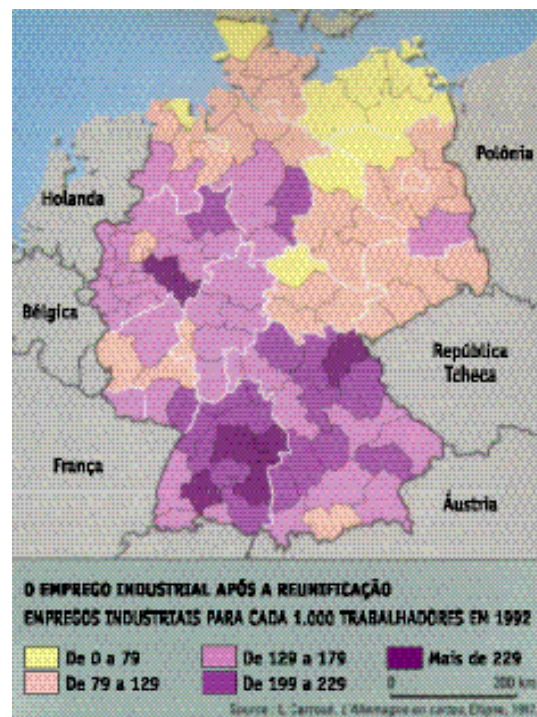
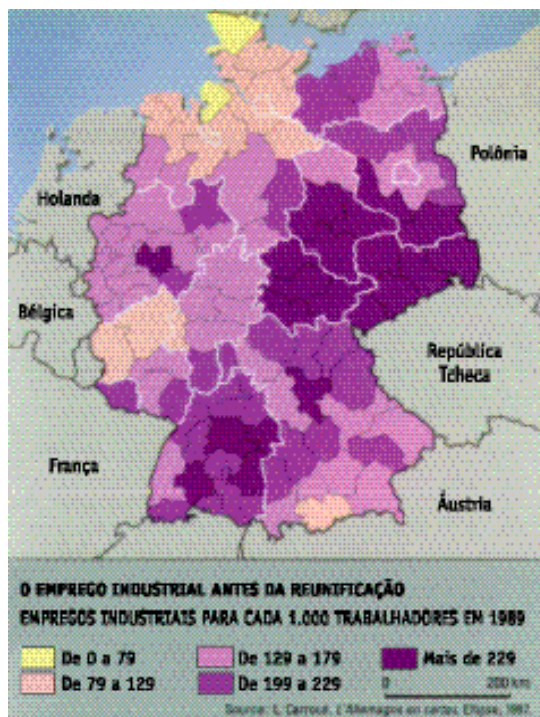
QUESTÃO 06

A variação da taxa de população masculina entre 1996 e 2000 pode ser observada no mapa a seguir.



(THÉRY, H. e MELLO, N. A. de. *Atlas do Brasil*. São Paulo: EDUSP, 2005.)

- Compare a variação das taxas das áreas 1 e 2 e indique a razão da diferença encontrada.
- Descreva uma característica socioeconômica de cada uma dessas áreas que justifique a variação apontada no mapa.

QUESTÃO 07


(KNAFOU, R. et al. *Géographie*. Paris: Belin, 1998.)

No dia 3 de outubro de 2005, a Alemanha comemorou quinze anos de sua reunificação. Contudo, a integração da porção leste ao padrão socioeconômico do restante da Alemanha ainda não foi plenamente atingida. Os mapas acima apresentam uma mudança no nível de emprego industrial antes e depois da reunificação. Em relação a essa mudança:

- explique sua razão;
- aponte duas conseqüências.

QUESTÃO 08

Florestas de pequenas e ameaçadoras plaquinhas que avisam: “Resposta Armada!” crescem nos gramados cuidadosamente aparados do *West Side* de Los Angeles. Até mesmo os bairros mais ricos se isolam atrás de muros guardados por polícia privada armada e por moderníssimos equipamentos de vigilância eletrônica.

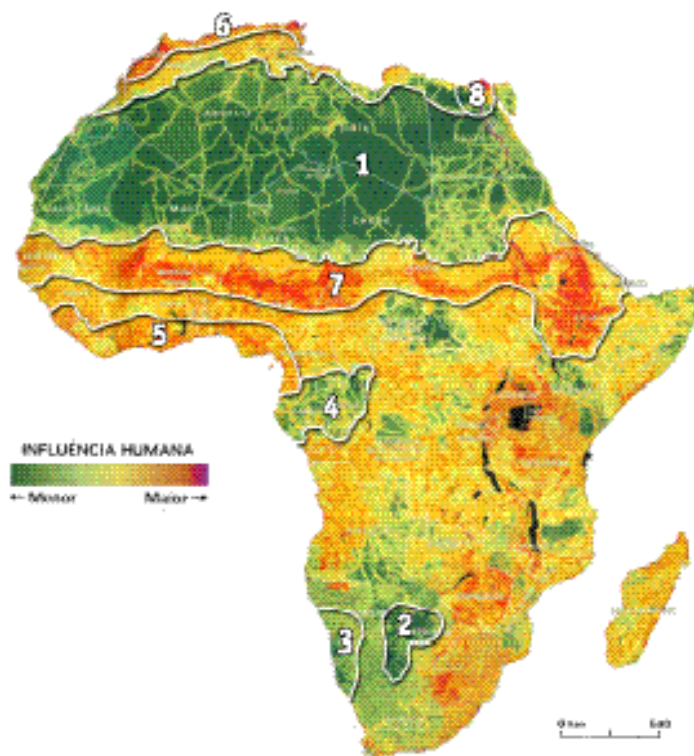
Nós vivemos em cidades brutalmente divididas entre “células fortificadas” da sociedade afluyente e “lugares de terror” onde a polícia guerreia contra o pobre criminalizado.

(Adaptado de DAVIS, Mike. *Cidade de Quartzo*. São Paulo: Página Aberta, 1993.)

O texto acima descreve um processo socioespacial que também pode ser observado em metrópoles brasileiras, como o Rio de Janeiro.

A partir dessa comparação,

- identifique esse processo e aponte o fator comum que o desencadeou nas duas cidades;
- cite duas ações do Estado que reforçam esse processo na cidade do Rio de Janeiro.

QUESTÃO 09


<http://nationalgeographic.abril.com.br>

O continente africano pode ser caracterizado pela influência não uniforme das atividades humanas sobre seu espaço. Considerando o mapa acima, nomeie uma área que apresente:

- A) baixo grau dessa influência e sua respectiva característica natural;
 B) alto grau dessa influência e sua atividade econômica predominante.

QUESTÃO 10

Desenvolvimento limpo vale ouro

O Brasil começa a despontar num mercado que cresce a um ritmo de 200% ao ano. É a venda de crédito de carbono, negócio criado a partir da entrada em vigor do Protocolo de Kioto, em fevereiro passado. O país já ocupa a segunda posição entre os que mais venderam crédito de carbono, atrás apenas da Índia, e tem cerca de um terço dos projetos na fila para certificação pela Organização das Nações Unidas (ONU).

(RODRIGUES, L. e OLIVEIRA, E. *O Globo*, 08/09/2005.)

- A) Indique o objetivo do Protocolo de Kioto e um país industrializado que não tenha ratificado esse acordo internacional.
 B) Aponte uma característica climática do território brasileiro e a vantagem que ela proporciona para o país no mercado internacional de créditos de carbono.